

PORTUGUÊS

Analise o fragmento do texto abaixo:

O CARNAVAL DE RUA É UMA IMENSA CHARGE

(*) Nelson Valente



O carnaval de hoje não é melhor nem pior do que o de antigamente. É certamente diferente. Já vivi o suficiente para me atrever a comparações. Cada um deles tem as suas especificidades e o seu brilho.

Há muitos anos a imprensa divulga que o carnaval de rua morreu. Aliás, morre todos os anos, num fenômeno que não sei explicar. De ressurreição em ressurreição a animação dos paulistas, baianos, pernambucanos e cariocas sobrevive, sobretudo nos bairros mais populares.

(*) é professor universitário, jornalista e escritor

Fonte: <http://www.josedomingos.com.br/2010/02/o-carnaval-de-rua-e-uma-imensa-charge/comment-page-1/>. Acessado em 21/02/2010.

01 – O título do texto se relaciona com o fragmento no sentido de:

- A) que o carnaval de rua é ainda bem representado em muitos cantos do Brasil;
- B) que o carnaval de rua passa por um fenômeno de revitalização após sua morte há muitos anos;
- C) que o carnaval de rua, apesar das mutações, sobrevive aos anos;
- D) que o carnaval de rua é brilhante apenas em São Paulo, Bahia, Pernambuco e Rio de Janeiro;
- E) que o carnaval de rua segundo a imprensa morre todos os anos.

02 – O título do texto se relaciona com a figura (charge) no sentido de:

- A) trazer um boneco gigante de Olinda-PE no centro;
- B) colocar nas mãos do Homem da Meia Noite o símbolo que indica o fim do carnaval;

- C) representar o início do carnaval de rua de Olinda-PE;
- D) fazer uma piada com o Homem da Meia Noite que só vai comer peixe na Quaresma;
- E) colocar o peixinho no lugar do palhaço na caixinha para causar uma grande surpresa aos foliões.

03 – O autor do texto em relação ao carnaval de rua:

- A) afirma que a imprensa divulga que o carnaval de rua já morreu, mas ressurgir todos os anos;
- B) assevera que o carnaval de rua morre numa certa constância, ressurgindo melhor a cada ano;
- C) assegura que baianos, paulistas, pernambucanos e cariocas sobrevivem por causa da ressurreição do carnaval;
- D) certifica que somente nos bairros mais populares é que o carnaval de rua tem mais animação;
- E) declara não saber a causa da morte do carnaval de rua, porém está convicto da sua continuidade que se dá através da sua anual ressurreição.

04 – No fragmento “O carnaval de hoje não é melhor nem pior do que o de antigamente.”, nos termos sublinhados há:

- A) uma alternância entre as ideias de modernidade e posteridade;
- B) uma explicação para a qualidade do carnaval de hoje e de antes;
- C) uma relação de causa e efeito entre as ideias de melhor e pior;
- D) uma comparação entre os carnavais de outrora e os atuais;
- E) uma relação de conclusão ante a qualidade do carnaval.

05 – No fragmento “Aliás, morre todos os anos, num fenômeno que não sei explicar.”, o termo sublinhado é usado para:

- A) retificar o que foi declarado anteriormente;
- B) ratificar o que foi exposto no enunciado anterior;
- C) reiterar o que foi revelado no trecho anterior;
- D) explicar o que foi dito antes;
- E) discordar do que foi discorrido antes.

06 – No fragmento “De ressurreição em ressurreição a animação dos paulistas, baianos, pernambucanos e cariocas sobrevive, sobretudo nos bairros mais populares.”, o termo sublinhado poderá ser substituído, sem alteração do sentido do enunciado, por:

- A) exceto;
- B) menos;
- C) principalmente;
- D) inclusive;
- E) mesmo.

Examine a charge abaixo:



07 – A ilustração sugere uma comparação entre a onipresença de Deus e o programa de televisão “Big Brother”. O cômico do texto reside justamente na alusão de que:


- A) a capacidade extraordinária de Deus poder assistir a todas as pessoas ao mesmo tempo está esgotada;
- B) o público em grande parte se enfada por ter que, quase obrigatoriamente (como faz a mídia televisiva), participar da vida dos outros e dela opinar, censurar e julgar, coisa que é mais própria de Deus;
- C) o melhor julgamento para os “big brothers” virá apenas de Deus;
- D) o desinteresse de Deus é visível porque o Big Brother é um programa maçante;
- E) a recusa de Deus em assistir ao Big Brother deixará o programa sem vencedores.

08 – Uma relação entre o divino e o paredão dos participantes do “big brother” que este texto cômico pode refletir é:

- A) o incêndio bíblico de Sodoma e Gomorra;
- B) o dilúvio e arca de Noé;
- C) a expulsão de Adão e Eva do paraíso;
- D) a morte de Caim e Abel;
- E) a construção da Torre de Babel.

Leia o texto a seguir:

O Diabo e a Criança



Um dia o Diabo viu uma criança fazendo com o dedo um buraco na areia e perguntou-lhe que diabo de coisa estaria fazendo.

- Ué! Não vês? Estou fazendo com o dedo um buraco na areia! - espantou-se a criança.

Pobre Diabo! O seu mal é que ele jamais compreenderá que uma coisa possa ser feita sem segundas intenções.

Mário Quintana

09 – O texto faz uma ironia que está refletida:

- A) na má compreensão do diabo para com a criança;
- B) na criação da criança de fazer um buraco na areia com o dedo;
- C) na pergunta maliciosa feita pelo diabo à criança;
- D) nas segundas intenções interpretadas pelo diabo;
- E) na surpresa que reveste a resposta da criança ao diabo.

10 – O pronome “lhe” sublinhado no texto faz uma retomada anafórica de:

- A) ELE, o diabo;
- B) ELE, o dedo;
- C) ELE, o menino;
- D) ELA, a criança;
- E) ELA, a coisa.

CONHECIMENTOS GERAIS

11 – Recentemente, alguns estados brasileiros, como o Rio de Janeiro, Santa Catarina e São Paulo, têm sofrido com os fortes deslizamentos de terra, causados pelos fenômenos da natureza, que se agravam com as ações do homem. Neste contexto, o órgão responsável em interditar as áreas de risco corresponde a(o):

- A) PROCON
- B) IBAMA
- C) SUDEMA
- D) MINISTÉRIO PÚBLICO
- E) DEFESA CIVIL

12 – Sabe-se que o Brasil é um país conhecido popularmente como “o país dos corruptos”, devido a grande quantidade de denúncias que chegam à justiça em diversos setores da sociedade, envolvendo gestores públicos e parlamentares acusados de desvios de verbas públicas. A prática deste crime promovido por políticos, conhecido por corrupção, recentemente, levou à cadeia o governador:

- A) do Acre
- B) de Goiás
- C) do Maranhão
- D) do Distrito Federal
- E) de São Paulo

13 – Todo profissional que exerce a função empregatícia tecnicamente reconhecida por lei, deve ter seu registro em um órgão que regulamenta a profissão que exerce. Para o nutricionista, não é diferente. Neste caso, o Conselho Federal de Nutrição, caracteriza-se por ser:

- A) uma fundação
- B) uma entidade de classe
- C) um órgão não governamental
- D) uma entidade mista
- E) um instituto de pesquisa



14 – Dentre as cidades abaixo relacionadas, assinale a que está sediando os jogos olímpicos de inverno de 2010.

- A) Turim, na Itália
- B) Salt Lake, nos Estados Unidos
- C) Vancouver, no Canadá
- D) Nagano, no Japão
- E) Lillehammer, na Noruega

15 – Todos os anos, mais de um milhão de foliões vão às ruas pular no maior bloco carnavalesco do mundo: o Galo da Madrugada. Este bloco, que já faz história no Guinness Book, sai, impreterivelmente no sábado que antecede o carnaval na cidade de:

- A) Salvador
- B) Recife
- C) Rio de Janeiro
- D) São Luís
- E) João Pessoa

16 – Entre as imagens abaixo, assinale a que pertence a um ponto turístico da capital baiana.



17 – Considere o fragmento textual abaixo:

“Caminhando e cantando
E seguindo a canção
Somos todos iguais
Braços dados ou não
Nas escolas, nas ruas
Campos, construções
Caminhando e cantando
E seguindo a canção...
Vem, vamos embora
Que esperar não é saber
Quem sabe faz a hora
Não espera acontecer...”

Este trecho refere-se a letra de uma música muito popular que se consagrou como um hino de luta contra a ditadura militar na década de 70. Entre os artistas abaixo, assinale a alternativa que apresenta o autor da letra supra.

- A) Caetano Veloso
- B) Milton Nascimento
- C) Chico Buarque
- D) Gilberto Gil
- E) Geraldo Vandré

18 – Este ano haverá eleições para diversos cargos eletivos. Entre os cargos citados abaixo, assinale o que não vai para as disputas eleitorais.

- A) Presidente
- B) Deputado Federal
- C) Prefeito
- D) Senador
- E) Deputado Estadual

19 – Considere os fragmentos textuais abaixo:

Canção do Exílio

“Minha terra tem palmeiras,
Onde canta o Sabiá;
As aves, que aqui gorjeiam,
Não gorjeiam como lá.
Nosso céu tem mais estrelas,
Nossas várzeas têm mais flores,
Nossos bosques têm mais vida,
Nossa vida mais amores.(...)
(...) Não permita Deus que eu morra,
Sem que eu volte para lá;
Sem que desfrute os primores
Que não encontro por cá;
Sem qu’inda aviste as palmeiras,
Onde canta o Sabiá.”

Gonçalves Dias

Vou-me Embora pra Pasárgada

”Vou-me embora pra Pasárgada,
Lá sou amigo do rei,
Lá tenho a mulher que eu quero,
Na cama que escolherei.
Vou-me embora pra Pasárgada.
Aqui eu não sou feliz,
Lá a existência é uma aventura,
De tal modo inconseqüente,
Que Joana a Louca de Espanha,
Rainha e falsa demente
Vem a ser contraparente
Da nora que nunca tive.(...)
(...) E quando eu estiver mais triste
Mas triste de não ter jeito
Quando de noite me der
Vontade de me matar,
— Lá sou amigo do rei —
Terei a mulher que eu quero
Na cama que escolherei.
Vou-me embora pra Pasárgada.”

Manuel Bandeira

Com base nestes textos literários, é possível concluir que a aproximação de um texto a outro se dá:

- A) pelo desejo de ambos de sair da sua terra natal.
- B) pelo desejo de ambos de retornar para a sua terra natal.
- C) pela satisfação de estar na sua terra natal.
- D) pela satisfação de não estar na sua terra natal.
- E) pela insatisfação de estar no lugar onde se encontra.

20 – Entre os filmes citados abaixo, assinale a alternativa que apresenta o que provocou polêmica antes da sua estréia por caracterizar uma apologia político-partidária.

- A) Redentor (de Cláudio Torres)
- B) Nome Próprio (de Murilo Salles)

- C) Pixote: A Lei do Mais Fraco (de Hector Babenco)
- D) Lula: o Filho do Brasil (de Fábio Barreto)
- E) São Paulo: Sociedade Anônima (de Luís Sérgio Person)

21 – Sabemos que a moeda Euro surgiu há alguns anos para fortalecer a economia européia e competir em teor de igualdade com o dólar americano que até então predominava como a moeda mais valorizada do globo. O Euro foi adotado por diversos países. Entre os países abaixo citado, marque a alternativa que apresenta um país que não adotou o Euro como moeda oficial.

- A) Inglaterra
- B) Portugal
- C) Alemanha
- D) Itália
- E) Espanha

22 – Sabemos que na sociedade brasileira existem três poderes que são denominados de Executivo, Legislativo e Judiciário. Na esfera federal, a mais alta corte do Judiciário corresponde ao Supremo Tribunal Federal (STF), que tem, atualmente, como presidente:

- A) Ministro Ricardo Lewandowski
- B) Ministro Eros Grau
- C) Ministra Ellen Gracie
- D) Ministro Carlos Britto
- E) Ministro Gilmar Mendes

23 – Baseado na Estimativa de população para os municípios brasileiros promovida pelo IBGE, atendendo ao dispositivo legal da Lei Federal nº 8443, de 16 de julho de 1992, no Artigo 102, a qual foi publicada no Diário Oficial da União, em 14 de agosto de 2009, com data de referência em 1º de julho de 2009 o município de Piracicaba registrou um número de:

- A) 446.852 habitantes
- B) 279.963 habitantes
- C) 610.155 habitantes
- D) 368.843 habitantes
- E) 504.257 habitantes

24 – Todos os municípios abaixo citados fazem divisa com Piracicaba, **EXCETO**:

- A) Rio das Pedras
- B) Iracemápolis
- C) Anhembi
- D) São Pedro
- E) Torrinha

25 – O gentílico das pessoas que nascem em Piracicaba é denominado de:

- A) piracicabense
- B) piraciquense
- C) piracicabano
- D) piracicano
- E) piracicabiense

CONHECIMENTOS ESPECÍFICOS

26 – Pesquisas indicam que a serotonina, substância importante no combate a depressão, é formada também por uma vitamina. Qual?

- A) Tiamina
- B) Riboflavina
- C) Niacina
- D) Piridoxina
- E) Vitamina E

27 – Devido a gordura trans ser nociva para a saúde, a indústria teve que inovar na melhora das gorduras adicionadas aos produtos alimentícios. Qual a técnica utilizada que mistura uma gordura em estado sólido e um óleo líquido melhorando a qualidade desta?

- A) Esterificação
- B) Interesterificação
- C) Dextrinização
- D) Saponificação
- E) Extratificação

28 – A gordura trans utilizada no preparo de vários produtos alimentícios aumenta o risco de problemas cardiovasculares, e devido a isso a indústria reduziu o seu uso e introduziu um novo óleo nestes produtos. Assinale a assertiva que indica o óleo:

- A) Óleo de palma.
- B) Óleo de coco.
- C) Óleo de soja.
- D) Óleo de canola.
- E) Óleo de girassol.

29 – A criança nos primeiros anos de vida apresenta um crescimento acelerado. Qual seria a média do crescimento infantil no 1º ano e no 2º ano de vida, indicando que esta criança teve um crescimento dentro dos padrões de normalidade?

- A) 20 cm no 1º ano e 15 cm no 2º ano de vida.
- B) 18 cm no 1º ano e 10 cm no 2º ano de vida.
- C) 25 cm no 1º ano e 12 cm no 2º ano de vida.
- D) 15 cm no 1º ano e 15 cm no 2º ano de vida.
- E) 19 cm no 1º ano e 13 cm no 2º ano de vida.

30 – Na conduta nutricional da gastrite não é aconselhável a ingestão e o consumo de algumas bebidas e comidas, **exceto**:

- A) aveia e café;
- B) café e café descafeinado;
- C) café descafeinado e alface;
- D) chá e aveia;
- E) Todas as alternativas estão incorretas.

31 – Em se tratando de Nutrição Enteral, assinale **Verdadeiro (V)** ou **Falso (F)** e marque a assertiva correta:

- () Na nutrição enteral a sua administração pode ser intermitente, em bolo e descontinua.
- () A administração em bolo requer a utilização de bomba de infusão.
- () A administração contínua é o método mais utilizável, pois utiliza a força da gravidade.

- A) VVV
- B) FFF
- C) FVF
- D) VVF
- E) VFF

32 – Quando falamos em Nutrição Enteral devemos ter um cuidado especial na OSMOLARIDADE destas soluções. Indique qual o elemento que não interfere neste fator:

- A) Lipídios.
- B) Monossacarídeos e dissacarídeos.
- C) Aminoácidos cristalinos.
- D) Peptídios.
- E) Cloreto de sódio.

33 – A Nutrição Parenteral é indicada em casos que o trato gastrointestinal não está funcionando adequadamente; assinale **Verdadeiro (V)** ou **Falso (F)** e marque a assertiva correta:

- () A glicose é utilizada como a fonte não protéica preferida.
- () Caso haja administração excessiva de glicose, pode-se causar disfunção hepática e produção aumentada de dióxido de carbono, levando à insuficiência respiratória em alguns casos.
- () A relação entre aminoácidos essenciais e o teor de nitrogênio, deve ser aproximadamente 3:4.

- A) VVV
- B) VFV
- C) VVF
- D) FVV
- E) FVF

34 – Um Paciente nefropata que faz hemodiálise 3 vezes na semana, apresentou potássio de 7 mEq/l. Quais seriam os cuidados necessários? Marque **verdadeiro (V)** ou **falso (F)**.

- () Poderia aumentar o consumo de tâmara (50 g/dia) e goiaba vermelha (1 unidade média/dia).
- () Deveria não ter cuidado na técnica de cocção dos vegetais
- () Poderia consumir normalmente maçã (1 unidade média) e caju (1 unidade pequena ao dia).

- A) FFV
- B) VFV
- C) VVF
- D) FFF
- E) VVV

35 – Um paciente com Insuficiência Renal que faz hemodiálise está sentindo os seguintes sintomas: coceira na pele, olhos vermelhos, e após algum tempo seu corpo não consegue utilizar o cálcio de forma adequada e seus ossos e dentes ficam fracos. Que mineral levaria a esse quadro se seus valores atingissem níveis acima dos valores de referência:

- A) potássio
- B) zinco
- C) fósforo
- D) cálcio
- E) selênio

36 – O Serviço de Alimentação e Nutrição de um hospital objetiva prestar assistência alimentar a sua clientela, porém sem ocorrer evasão de lucros. De quanto seria para um hospital um investimento para um serviço de nutrição:

- A) 8 – 9%
- B) 7 – 9%
- C) 10 – 11%
- D) 15 – 16%
- E) 12 – 13%

37 – Pessoas com infecção pelo HIV/AIDS apresentam anormalidades séricas significativas de micronutrientes, **exceto**:

- A) vitamina A
- B) Vitamina C
- C) Vitamina B12
- D) Vitamina B6
- E) Vitamina D

38 – A diarreia é um sintoma característico de um paciente com HIV/AIDS. Tal sintoma contribui significativamente para o quadro de desnutrição. Qual seria a etiologia da diarreia:

- A) Infecção por agentes oportunistas.
- B) Má absorção.
- C) Hipoalbuminemia.
- D) Só as alternativas A e B estão corretas.
- E) Todas as alternativas (A, B e C) estão corretas.

39 – Um dos indicadores para avaliar pacientes com doença pulmonar obstrutiva crônica (DPOC) é o Índice de Massa Corporal. Segundo a American Dietetic Association, estabeleceu-se alguns valores como normais.

Um paciente com DPOC, pesando 75 Kg, altura 1,68, sexo feminino e idade de 30 anos, qual seria sua avaliação nutricional, segundo essa nova diretriz:

- A) Eutrófico (IMC – 18,7 – 24,9 Kg/m²)
- B) Excesso de peso (IMC – 25 – 27 Kg/m²)
- C) Excesso de peso (IMC – 26 – 27 Kg/m²)
- D) Eutrófico (IMC – 22 – 27 Kg/m²)
- E) Obesidade (IMC – \geq 28 Kg/m²)

40 – Na Fibrose Cística ocorre um aumento de secreção e em decorrência disto, ocasiona-se alterações metabólicas sérias do tipo:

- A) Obstrução dos ductos pancreáticos e biliares.
- B) Obstrução intestinal.
- C) Obstrução dos brônquios.
- D) Só as alternativas A e C estão corretas.
- E) As alternativas A, B e C estão corretas.

41 – Pacientes com tuberculose fazem uso da medicação isoniazida, e esta droga forma um complexo com um nutriente, que não é utilizável pelo organismo, podendo levar a deficiência deste em alguns pacientes. Trata-se da:

- A) Riboflavina
- B) Tiamina
- C) Vitamina B6
- D) Vitamina B12
- E) Vitamina D

42 – Um paciente com Fibrose Cística apresenta alguns sinais e sintomas característicos. Assinale a assertiva correta:

- A) Perda de peso, esteatorréia e aumento dos níveis de cloro e sódio no suor.
- B) Aumento dos níveis de cloro e sódio no suor e perda de peso.
- C) Aumento dos níveis de cloro e potássio no suor e perda de peso.
- D) Esteatorréia e aumento dos níveis de sódio e cloro no suor.
- E) Perda de peso, esteatorréia e diminuição dos níveis de cloro e sódio no suor.

43 – Na área de Nutrição, existe um tipo de análise muito utilizada para determinar fraude em produtos alimentares, como também quando se fabrica dietas enterais. Assinale a assertiva correta:

- A) lactose
- B) lipídios
- C) Extrato seco total
- D) Osmolaridade
- E) Densidade

44 – A maneira como os alimentos são produzidos, conservados, processados e preparados tem impacto positivo ou negativo na saúde. Considerando os alimentos geneticamente modificados, segundo a OMS estes são tidos como seguros, desde que obedecem à legislação que regulamenta e estabelece a concentração de:

- A) 0,8% de organismo geneticamente modificado.
- B) 1 % de organismo geneticamente modificado.
- C) 1,2% de organismo geneticamente modificado
- D) 1,5% de organismo geneticamente modificado.
- E) 0,5% de organismo geneticamente modificado.

45 – Quando falamos em contaminação de alimentos devemos ficar atentos a esse perigo à saúde humana. Recentemente foi evidenciada a contaminação de um alimento e conseqüentemente pessoas foram infectadas, e qual doença adquirida. Assinale a alternativa que relata esse caso divulgado em rede nacional.

- A) Mel contaminado/ Doença de Chagas
- B) Melaço de cana / Doença de Chagas Aguda
- C) Caldo de cana / Doença de Chagas Aguda
- D) Açúcar mascavo / Doença de Chagas Aguda
- E) Açúcar cristal / botulismo

46 – Dentre as principais fontes de contaminação, assinale qual foi o veículo responsável por essa doença que relatamos na questão anterior:

- A) alimentos estragados.
- B) alimentos crus ou não lavados.
- C) pessoas.
- D) superfície e utensílios.
- E) sujeira e pó.

47 – O lactário é uma área destinada ao preparo de mamadeiras em um hospital. Este pode estar localizado em que local da instituição e é classificado em que tipo de área?

- A) Próximo ao Serviço de Nutrição ou perto do berçário ou próximo ao Centro de Material Esterilizado. Área Crítica.
- B) Próximo ao Serviço de Nutrição ou perto do berçário ou próximo ao Centro de Material Esterilizado. Área não crítica.
- C) Próximo ao Serviço de Nutrição ou perto do berçário. Área crítica.
- D) Próximo ao Serviço de Nutrição ou próximo ao berçário. Área semi-crítica.
- E) Próximo ao Serviço de Nutrição. Área não crítica.

48 – Um paciente diabético insulino-dependente, sexo masculino, com hábito de beber socialmente, deve ser orientado pelo Nutricionista para tomar qual tipo de bebida e em que quantidade; como também se deve comer enquanto bebe ou não.

- A) Chope – 1 – 2 doses. Não deve comer.
- B) Vinho – 2- 3 doses. E deve comer.
- C) Whisky – 1- 2 doses. Não deve comer.
- D) Whisky – 1 -2 doses. Deve comer.
- E) Vinho – 1 – 2 doses. Deve comer.

49 – Fibras são carboidratos complexos, utilizados como terapia nutricional coadjuvante. Assinale a alternativa correta:

- A) São classificadas em solúveis e insolúveis.
- B) As insolúveis não atuam sobre a colesterolemia, mas aumentam a saciedade.
- C) Recomenda-se 6 g/dia de fibra solúvel que diminuí o colesterol.
- D) Todas as alternativas (A, B e C) estão certas.
- E) Só as alternativas A e B estão certas.

50 – Dentre os tipos de adoçante, podemos classificá-los em naturais e artificiais. Em caso de uma gestante obesa, qual seria o mais recomendado?

- A) Ciclamato
- B) acesulfame K
- C) sacarina
- D) aspartame
- E) sucralose