

PORTUGUÊS

Atente para a imagem abaixo e responda as questões 01, 02 e 03.

AMARILDO



Fonte: http://2.bp.blogspot.com/_7024QKdLrXE/Rwg91rA9G_I/AAAAAAAAABg4/ZyVDmw85XqY/s400/charge_20071006.jpg

01 – Quanto aos discursos dos personagens, é possível concluir que:

- I- O personagem masculino utilizou de uma insinuação de que a fidelidade conjugal não consiste da obrigatoriedade.
- II- A personagem feminina, ingenuamente, acreditou se tratar tal obrigatoriedade nos relacionamentos conjugais.
- III- O personagem masculino deixou um subentendido de que não pratica relação extraconjugal.

Está(ão) correto(s) o(s) item(ns):

- A) I, apenas;
- B) II, apenas;
- C) III, apenas;
- D) I e II, apenas;
- E) I, II e III.

02 – O uso do vocativo “Benhê” e “Tribufu” nos discursos de ambas as personagens concorre, nitidamente, para identificar uma função da linguagem denominada:

- A) conativa
- B) fática
- C) expressiva
- D) poética
- E) metalinguística

03 – No discurso da personagem feminina é possível identificar uma classe de palavra invariável, em gênero e número, apenas, que expressa circunstância de:

- A) modo
- B) intensidade

- C) tempo
- D) negação
- E) dúvida

Considere a imagem abaixo e responda as questões 04 e 05.



Fonte: <http://radiolandafm.files.wordpress.com/2008/02/charge-celular.jpg>

04 – Quanto ao discurso do personagem:

- I- É possível identificar o uso informal da próclise;
- II- Há uma conjugal inadequada posterior ao pronome pessoal “me”;
- III- Houve uma supressão de fonemas no verbo “estar”, presente no texto.

Está(ão) correto(s) o(s) item(ns):

- A) I, apenas;
- B) II, apenas;
- C) III, apenas;
- D) I e II, apenas;
- E) I, II e III.

05 – Visualmente é possível caracterizar um contraste entre a pobreza, marcada pela cultura do personagem de ser um catador de lixo e a tecnologia, associada ao uso do aparelho celular. Este contraste ilustrativo corresponde a uma figura de linguagem denominada:

- A) metonímia
- B) antítese
- C) personificação
- D) prosopopéia
- E) hipérbole

06 – Considere a charge abaixo e assinale a alternativa correta.



Fonte: <http://www.charge-o-matic.blogspot.com.br/Benett-charge01.gif>

A expressão inebriante pode ser trocada, formalmente, sem alteração semântica por:

- A) que lucida
- B) que obscurece
- C) que entontece
- D) que transparece
- E) que viaja

Considere o texto-piada abaixo para responder as questões 07, 08, 09 e 10.

Jeitinho brasileiro!

Estavam na china um brasileiro, um americano e um argentino.

Estavam bebendo na praça.

Só que na China isso é proibido e eles foram pegos em flagrante.

Presos, foram mandados ao Juiz pra receberem sua sentença.

O Juiz deu uma bronca enorme e disse que cada um ia receber 20 chicotadas como punição.

Só que estavam em transição entre o ano do cão e o do rato, então cada prisioneiro tinha direito à um pedido:

- Você americano! Seu país é racista, capitalista e eu odeio vocês, mas promessa é promessa!

Qual o seu desejo, desde que seja não escapar da punição?

- Quero que amarrem 1 travesseiro nas minhas costas!

- Que assim seja! E tome as chicotadas com o travesseiro nas costas...

Lá pela décima chicotada o travesseiro cedeu e o americano levou 10 chicotadas.

- Sua vez argentino! Seu povo é muito arrogante e trapaceiro.

Odeio vocês, mas promessa é promessa!! Qual o seu desejo?

- Que amarrem 2 travesseiros nas minhas costas!

E assim foi. Lá pela décima quinta chicotada os travesseiros cederam e o argentino tomou 5 das 20 chicotadas. Mas ficou feliz por que passou a perna no americano!

Foi a vez do brasileiro.

- Ora, ora, você é brasileiro... povo simpático, bom de futebol, humilde... como eu gosto do seu povo vc terá 2 pedidos!!

- Bem, eu queria levar 100 chicotadas...

- Espantoso!! Ainda por cima é corajoso!! Seu pedido será realizado!! Qual é o próximo?

- Amarra o argentino nas minhas costas!!!...

Fonte: <http://www.piadasonline.com.br/MostraPiadas.asp?Jeitinho-brasileiro/>

07 – A contextualização do texto-piada acima apresenta, predominantemente:

- A) a fúria dos chineses perante os americanos;
- B) a esperteza dos argentinos diante dos americanos;
- C) a atitude extrema dos chineses;
- D) a habilidade do brasileiro;
- E) o perdão da justiça chinesa.

08 – No enunciado: “-Ora, ora, você é brasileiro... povo simpático, bom de futebol, humilde... como eu gosto do seu povo vc terá 2 pedidos!!”, temos:

- A) 01 oração;
- B) 02 orações;
- C) 03 orações;
- D) 04 orações;
- E) 05 orações.

09 – Quanto aos estudos sobre acentuação gráfica, na frase: *Seu pedido será realizado!! Qual é o próximo?*, a palavra destacada é acentuada porque:

- A) toda paroxítona terminada em “o” deve ser acentuada.
- B) toda proparoxítona deve ser acentuada.
- C) trata-se de uma palavra oxítona.
- D) palavras terminadas em “mo” devem ser acentuadas.
- E) palavras com a presença de dígrafo devem ser acentuadas.

10 – Imaginemos que numa certa situação tenhamos que identificar o sujeito de uma oração só com as informações que são mostradas impressas. Desta forma, na oração: “Estavam bebendo na praça.”, podemos classificar como:

- A) sujeito determinado
- B) sujeito composto
- C) sujeito oculto
- D) oração sem sujeito
- E) sujeito indeterminado

CONHECIMENTOS GERAIS

11 – O município de Capim emancipado há pouco mais de uma década pertencia, sumariamente a:

- A) Sapé
- B) Cuité de Mamanguape
- C) Mamanguape
- D) Sobrado
- E) Cruz do Espírito Santo

12 – A população do município de Capim, segundo o Censo/2007 do IBGE, concorre para uma estimativa de:

- A) 6.300 habitantes
- B) 11.400 habitantes
- C) 8.700 habitantes
- D) 5.200 habitantes
- E) 3.800 habitantes

13 – A cidade de Capim, apesar da pouca idade, já apresenta alguns nomes que vão ficar na história do município como representantes do povo como gestor eleito pelo voto. Todos os nomes abaixo são de ex-prefeito e/ou ex-vice-prefeito de Capim, **EXCETO**:

- A) João Bento Batista
- B) João Rocha
- C) Sérgio Lima
- D) João Cardoso dos Santos
- E) Pedro Jorge Coutinho Guerra

14 – Todo município que se preza, adota prioritariamente seus símbolos institucionais. O município de Capim, orgulhosamente, também adota um brasão, como símbolo institucional que o identifica em certas ocasiões de representatividade. Desta forma, assinale a alternativa que apresenta as cores oficiais do brasão institucional de Capim.

- A) Rosa, amarelo, branco e vermelho.
- B) Verde, vermelho, amarelo e roxo.
- C) Vermelho, amarelo, branco e verde.
- D) Azul, amarelo, branco e verde.
- E) Laranja, vermelho, amarelo e azul.

15 – A(O) padroeira(o) do município de Capim corresponde a:

- A) Nossa Senhora da Luz
- B) Sant'Ana
- C) Santo Antônio
- D) Santa Rita de Cássia
- E) São Sebastião

16 – Conforme a Lei Estadual de Nº 6.425 de 27 de dezembro de 1996, os limites do município de Capim dividem-se com:

- A) Itapororoca, Araçagi, Mamanguape, Santa Rita, Sapé.

- B) Cuité de Mamanguape, Itapororoca, Mamanguape, Rio Tinto, Santa Rita, Sapé.
- C) Itapororoca, Mamanguape, Cuité de Mamanguape, Cruz do Espírito Santo, Sapé.
- D) Itapororoca, Mamanguape, Cuité de Mamanguape, Santa Rita, Sapé, Araçagi.
- E) Cuité de Mamanguape, Itapororoca, Rio Tinto, Santa Rita, Sapé.

17 – A comemoração da emancipação política da cidade de Capim se dá todos os anos em:

- A) 23 de março.
- B) 05 de maio.
- C) 09 de julho.
- D) 12 de agosto.
- E) 07 de setembro.

18 – A Paraíba já foi destaque no passado quanto ao seu futebol quando o Botafogo de João Pessoa, ganhou de 2 X 1 para o Flamengo em pleno Maracanã. Sabe-se que esta façanha foi uma época de ouro para o time paraibano na década de 80. Recentemente, outro clube paraibano se destacou na mídia por ter conseguido no ano passado classificação para o ingresso na Série B do campeonato Brasileiro de Futebol. Apesar de não está fazendo uma boa campanha este ano o clube vem se segurando como pode. Trata-se do:

- A) Auto Esporte
- B) Botafogo
- C) Campinense
- D) Treze
- E) Sousa de Cajazeiras

19 – Na Paraíba, está acontecendo um grande dilema sobre a aprovação de um projeto de lei que extingue uma lei que trata da criação de uma corte para fiscalizar os gastos públicos em nosso estado. A corte em questão refere-se ao:

- A) Tribunal de Contas do Estado
- B) Conselho Estadual de Justiça
- C) Procuradoria Especial de Contas
- D) Tribunal de Contas dos Municípios
- E) Controladoria Estadual de Contas

20 – Atualmente, o presidente da Comissão de Constituição, Justiça e Redação da Assembléia Legislativa do Estado da Paraíba, considerada a mais importante das comissões deste Poder Legislativo, corresponde a:

- A) Dep. Aguinaldo Ribeiro
- B) Dep. Raniery Paulino
- C) Dep. Olenka Maranhão
- D) Dep. Jeová Campos
- E) Dep. Zenóbio Toscano

CONHECIMENTOS ESPECÍFICOS

21 – A unidade de armazenamento em um computador entre o Gigabyte (GB) e o Petabyte (PB) é:

- A) o Exabyte (EB)
- B) o Zettabyte (ZB)
- C) o Terabyte (TB)
- D) o Megabyte (MB)
- E) o Yottabyte (YB)

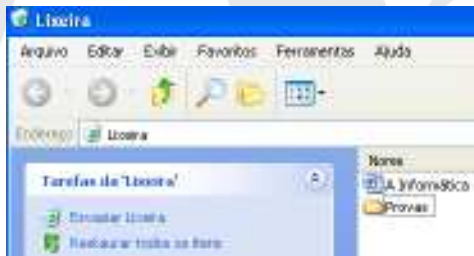
22 – O dispositivo eletrônico que modula um sinal digital em uma onda analógica, pronta a ser transmitida pela linha telefônica, e que modula o sinal analógico e o reconverte para o formato digital original é:

- A) o modem em slot PCI
- B) o modem ADSL
- C) o modem em interface USB
- D) o adaptador de rede PCI Wi-Fi
- E) a placa de rede Ethernet

23 – Uma mídia DVD de 4,7 GB tem uma capacidade de armazenamento, em megabyte, correspondente a:

- A) 4096
- B) 3072
- C) 4928307,2
- D) 4812,8
- E) $4,48 \times 10^{-6}$

24 – Abaixo temos a janela da Lixeira do Windows XP contendo um arquivo e uma pasta. Para excluí-los ou restaurá-los da Lixeira:



- A) selecione-os e clique neles com o botão esquerdo do mouse e, em seguida, clique em “Restaurar” ou em “Excluir”.
- B) selecione-os e clique neles com o botão esquerdo do mouse e, em “Propriedades”, clique no botão “Restaurar”.
- C) vá no menu Ferramentas, clique em Esvaziar lixeira ou em Restaurar depois de selecionado o arquivo ou pasta.
- D) vá no menu Editar, clique em Selecionar tudo e, no menu Arquivo, clique em Restaurar ou Esvaziar Lixeira.
- E) vá no menu Arquivo, clique em Selecionar tudo e, no menu Editar, clique em Restaurar ou Esvaziar Lixeira.

25 – No sistema operacional Windows XP Home Edition ou Professional, para analisar volumes locais, além de localizar e consolidar arquivos e pastas dispersos, deve-se utilizar o utilitário nativo:

- A) ScanDisk
- B) Limpeza de disco

- C) Desfragmentador de disco
- D) ScanDefrag 5.6 Standard
- E) Defrangler

26 – Analise:


- I- Rede parecida com Internet, porém reservada a uma empresa, que pode ser ligada a Internet.
- II- É a sigla que identifica a família de protocolos utilizada na rede internet e nas intranets.
- III- É o endereço de um recurso (um arquivo, uma impressora etc.), disponível em uma rede; seja a Internet, ou uma rede corporativa, uma intranet.

As definições I, II e III relacionam-se, respectivamente, a

- A) intranet, TCP/IP, URL
- B) internet, IPX/SPX, FTP
- C) intranet, SNMP, URL
- D) ethernet, IMAP4, URI
- E) ethernet, IMAP, URC






27 – O sistema de correio eletrônico permite que o usuário

- A) possua um endereço eletrônico conhecido como **web**.
- B) através do protocolo **POP3** e **SMTP**, transfira, receba ou envie mensagens eletrônicas por e-mail.
- C) através de um programa de computador, receba e envie somente sites.
- D) através do **SMTP** (Simple Mail Transfer Protocol), servidor de entrada de e-mails, receba mensagens através da Internet.
- E) da internet receba sites que fornecem “feeds”.

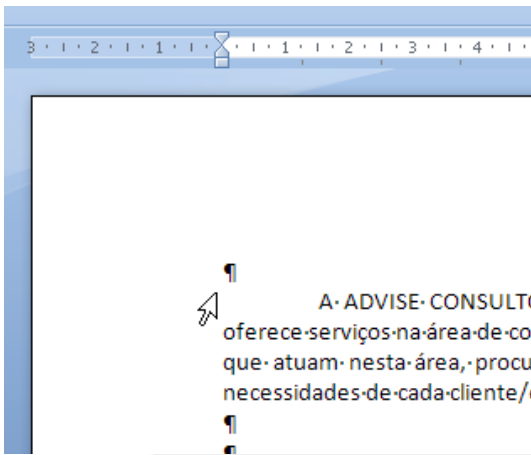
28 – O botão  (Nova pasta), que aparece na janela “Salvar como” no Word 2007, tem como atalho de teclado

- A) ALT+4
- B) ALT+5
- C) ALT+1
- D) ALT+2
- E) ALT+SHIFT+F10

29 – Identifique abaixo o botão do Word 2007 que, depois de clicar nele, desenha uma linha no meio do texto selecionado.

- A) 
- B) 
- C) 
- D) 
- E) 


30 – Conforme a figura abaixo, ao mover o ponteiro do mouse para a esquerda da linha até que assuma a forma de uma seta para a direita, clicando duas vezes no botão esquerdo do mouse, o Microsoft Word 2007 selecionará:



- A) a primeira linha de texto.
- B) toda página.
- C) o primeiro parágrafo.
- D) a primeira letra.
- E) a segunda linha de texto.


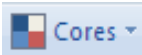
31 – Do Office Excel 2007 é **INCORRETO** afirmar que




- A) sua grade é de 1.048.576 linhas por 16.384 colunas, o que significa 1.500% de linhas e 6.300% de colunas a mais em relação ao Microsoft Office Excel 2003.
- B) seu gerenciamento de memória aumentou de 1 GB de memória, no Microsoft Office Excel 2003, para 2 GB (no Office Excel 2007).
- C) ele oferece suporte a até 16 milhões de cores.
- D) seus comandos e recursos são colocados em barras de ferramentas e menus complexos.
- E) suas colunas agora terminam em XFD, e não em IV.

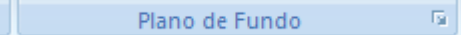
32 – Caso se clique na célula E7 e no botão  , o número 7,70, que está contido na célula E7, será exibido como

- A) 7,700
- B) 7,7
- C) 7,70
- D) 7
- E) 7,7000

33 – No Excel 2007, para copiar a cor da fonte da célula A1 selecionada e utilizá-la nos conteúdos das células B1, C1, e D1, é suficiente selecioná-las, após ter clicado em

- A) 
- B) 

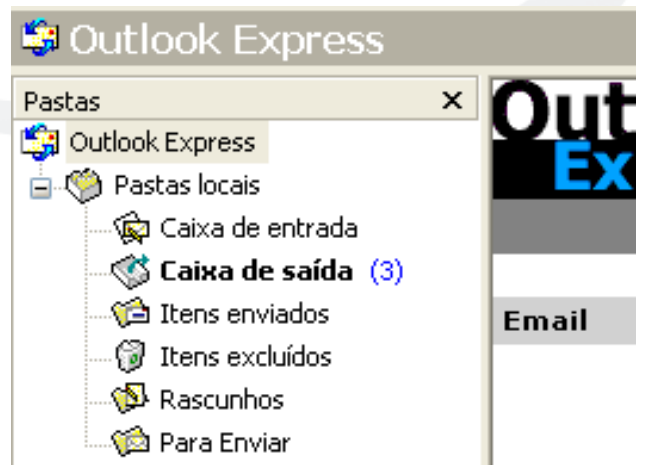
- C)  Fontes ▾
- D)  SmartArt
- E) 

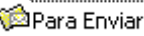




34 – A figura abaixo mostra a janela “Formatar Plano de Fundo”, grupo  Plano de Fundo, do Microsoft PowerPoint 2007. Para chegar a essa janela e formatar o plano de fundo do meu slide, que guia, da Faixa de Opções, exibo?



- A) guia Início
- B) guia Design
- C) guia Inserir
- D) guia Apresentação de Slides
- E) guia Exibição

35 – Observando a figura abaixo do Outlook Express: para trabalhar numa mensagem posteriormente, depois de salvá-la no menu Arquivo, a mensagem salva é enviada para a pasta



- A)  Para Enviar
- B)  Caixa de saída
- C)  Caixa de entrada
- D)  Rascunhos
- E)  Rascunhos Advise

36 – Considere o texto ilustrativo abaixo e responda:



Prefeitura Municipal de Nhandeara
DEPARTAMENTO MUNICIPAL DE EDUCAÇÃO E CULTURA
Rua Orosia Alves Pereira, 286 - CEP 15190-000 - Fone/Fax (20017) 3472-3026
Nhandeara-SP - E-mail: deeducan@ig.com.br

PORTARIA Nº 189/2009

O Prefeito Municipal de Nhandeara, **OZINO ODILON DA SILVEIRA**, no uso de suas atribuições legais e com base na Lei Complementar nº 1.493, de 04/março/1.999,

Resolve:

Designar para exercer o cargo de Vice – Diretora da EMEF “Joaquim Fernandes da Mota” a Prof.ª Adair Aparecida Delmaschio Barnabé, RG.: 6.887.673-7, a partir de 09/02/2009, com carga horária de 40 horas semanais.

Dê-se ciência. Publique-se. Cumpra-se.

Prefeitura Municipal de Nhandeara – Departamento Municipal de Educação e Cultura, em 06 de fevereiro de 2009.

Ozino Odilon da Silveira
Prefeito Municipal de Nhandeara

A definição que melhor se adéqua ao texto acima corresponde a:

- A) documento administrativo expedido por chefe de serviço aos funcionários subordinados.
- B) documento adotado no serviço público entre autoridades da mesma categoria, ou de autoridades a particulares, caracterizada por obedecer a certa fórmula epistolar e pelo formato do papel.
- C) documento de informação distribuído aos órgãos de imprensa por uma instituição privada, um órgão governamental ou semelhante, para ser publicado de modo gratuito entre as matérias do seu noticiário.
- D) decisão final proferida sobre um processo por um tribunal superior, que serve de paradigma para solucionar casos análogos.
- E) texto documental que contém uma reivindicação por direito legal do solicitante.

37 – Preencha as lacunas do texto abaixo e responda a alternativa correta.



ATA DE REUNIÃO DE IMPLANTAÇÃO DO POLO
ABED BELO HORIZONTE-MG

Aos vinte e sete dias do mês de novembro de 2006, no auditório do SENAC-MG, em Belo Horizonte, por ocasião das comemorações do Dia Internacional de EAD, _____ presentes convidados e autoridades locais, a Diretora de Pólos Nacionais da ABED professora Helena Riboli, _____

o professor Fredric Litto, Presidente da ABED, _____ posse ao Coordenador do Pólo Belo Horizonte, Professor Enilton Ferreira Rocha, ao Vice-Coordenador, Sr. Ricardo Luiz Araújo Drummond, bem como aos coordenadores de área, Márcia Luciana Teixeira Vieira – Relações Institucionais – Joaquim Quinteiro Uchôa e Fernando Fernandes de Souza – Tecnologias Educacionais, Katia Cilene Amaral Uchôa, Lígia Maria Machado e Márcia Neves – Metodologias Educacionais, Fernando França Monteiro de Barros e Carlos Antônio Carmo da Silva – Comunicação, Marketing e Eventos e _____ implantado oficialmente o Pólo da ABED em Belo Horizonte.

Belo Horizonte(MG) 27 de novembro de 2006.

A alternativa em que todas as palavras preenchem, respectivamente, as lacunas do texto acima corresponde a:

- A) esteve; representando; deu; declarou.
- B) estando; representado; deu; declarou.
- C) esteve; representado; deu; declarou.
- D) estando; representando; deu; declarou.
- E) estava; representando; deram; declarando.

38 – O Secretário Administrativo da Prefeitura Municipal de Capim pretende adquirir um documento da Câmara Municipal do município para averiguar o quantitativo de vagas existente no quadro de funcionários da Prefeitura. Neste caso, ele emitirá um(a):

- A) Ata
- B) Certidão
- C) Memorando
- D) Requerimento
- E) Edital

39 – Assinale a **ÚNICA** alternativa abaixo em que **não** corresponde ao uso adequado do pronome de tratamento com o seu referente.

- A) Vossa Excelência – Deputado Estadual
- B) Vossa Senhoria – Deputado Federal
- C) Vossa Alteza – Príncipe
- D) Vossa Magnificência – Reitor
- E) Vossa Reverendíssima – Arcebispo

40 – Sobre o conceito de arquivamento, considere os itens abaixo e responda a alternativa correta.

- I- Entre outras características, ação de guardar documento, papel ou processo que, embora já tenha perdido a validade ou esgotado a sua vigência, pode servir como auxílio para eventuais averiguações ou comprovações.
- II- Dentre outras funções, um corpo de técnicas e de conhecimentos relacionados com a produção do livro, seja do ponto de vista dos elementos materiais que lhe servem de suporte (papel, cartão, pele, linha, cola), seja da sua representação simbólica (tintas, cores, manchas, furos, medidas e formatos, composição, impressão).

III- Consiste, também, na técnica de controle de informações, análise da produção bibliográfica, mecanização das informações, reprodução de documentos, controle e produção de traduções, trabalhos de referência em todas as suas formas, publicação e divulgação de informações.

Quanto aos itens acima, está(ão) correto(s):

- A) I, apenas;
- B) I e II, apenas;
- C) I e III, apenas;
- D) II e III, apenas;
- E) I, II e III.

